

## أوراق عمل

الفصل الدراسي الثاني العام الدراسي 1447 هـ

### ورقة عمل الأسبوع الأول

الثانوية			المرحلة
المادة	رعاية صحية	الصف	الثالث

أولاً: أظلل الإجابة الصحيحة لكل مما يلي

١	محيط الرأس الطبيعي لطفل حديث الولادة	أ <input type="radio"/> ٢٥ - ٣٠ سم	ب <input type="radio"/> ٤٠ - ٤٥ سم	ج <input checked="" type="radio"/> ٣٢ - ٣٦ سم	د <input type="radio"/> ٥٠ - ٥٥ سم
٢	الطريقة الصحيحة لقياس الطول باستخدام شريط القياس	أ <input type="radio"/> من الركبة إلى الرأس	ب <input checked="" type="radio"/> من أعلى الرأس إلى أخمص القدمين	ج <input type="radio"/> من الخصر إلى القدم	د <input type="radio"/> من الكتف إلى الركبة
٣	الإداة المستخدمة لقياس محيط الرأس	أ <input checked="" type="radio"/> شريط القياس	ب <input type="radio"/> الميزان	ج <input type="radio"/> المسطرة	د <input type="radio"/> حلقة القياس

أظلل حرف (ص) إذا كانت العبارة صحيحة وحرف (خ) إذا كانت العبارة خاطئة:

م	السؤال	ص	خ
١	قياسات الطول والوزن جزء من الفحص الطبي في عيادة الطبيب	<input checked="" type="radio"/>	<input type="radio"/>
٢	الوزن المثالي للرضيع لا يعتمد على عمره	<input type="radio"/>	<input checked="" type="radio"/>

س٣: أفسر السبب :

- ١- يقاس الوزن عند البالغين بشكل متكرر ؟  
لمراقبة فقدان الوزن المفرط أو زيادته .

## أوراق عمل

الفصل الدراسي الثاني العام الدراسي ١٤٤٧ هـ

### ورقة عمل الأسبوع الثاني

المرحلة		الثانوية	
المادة	رعاية صحية	الصف	الثالث

أولاً: أظلل الإجابة الصحيحة لكل مما يلي:

١	الوضعية المناسبة للمريض عند الاضطجاع الأفقي (الاستلقاء)	أ <input type="radio"/> النوم على البطن	ب <input checked="" type="radio"/> النوم على الظهر	ج <input type="radio"/> النوم على الجانب الأيمن	د <input type="radio"/> النوم على الجانب الأيمن
٢	وضعية الانبطاح تعني استلقاء المريض على	أ <input checked="" type="radio"/> البطن	ب <input type="radio"/> الظهر	ج <input type="radio"/> الجانب الأيمن	د <input type="radio"/> الجانب الأيسر
٣	في وضعية فاو لمر المرتفعة يكون ارتفاع الرأس بزاوية .....درجة	أ <input type="radio"/> ٤٥	ب <input type="radio"/> ٢٥	ج <input checked="" type="radio"/> ٩٠	د <input type="radio"/> ١٢٠

ثانياً: أظلل حرف (ص) إذا كانت العبارة صحيحة وحرف (خ) إذا كانت العبارة خاطئة:

م	السؤال	ص	خ
١	تتعدد الوضعيات للمريض بتعدد الإجراءات والفحوصات الطبية المقررة	<input checked="" type="radio"/>	<input type="radio"/>
٢	في وضعية الانبطاح يكون وجه المريض للأعلى	<input type="radio"/>	<input checked="" type="radio"/>

ثالثاً: أحدد اسم الوضعيات التالية من خلال الصور



الانبطاح



الاضطجاع الظهرى



الاستلقاء الجانبي

## أوراق عمل

الفصل الدراسي الثاني العام الدراسي ١٤٤٧ هـ

### ورقة عمل الأسبوع الثالث

الثانوية			المرحلة
الثالث	الصف	رعاية صحية	المادة

أولاً: أظلل الإجابة الصحيحة لكل مما يلي:

١	عمى الألوان يُكتشف غالباً باستخدام	أ <input type="radio"/> مخططات الحروف	ب <input type="radio"/> أجهزة قياس العدسة	ج <input type="radio"/> فحص الضغط الداخلي للعين	د <input checked="" type="radio"/> نقاط متشابكة بألوان متباينة
٢	عند وقوف شخص على بعد ٦ م من المخطط يجب أن يكون هذا الشخص يتمتع بحدة رؤية طبيعية قادراً على رؤية الأحرف التي يبلغ ارتفاعها	أ <input checked="" type="radio"/> ٢٠ ملم	ب <input type="radio"/> ١٠ ملم	ج <input type="radio"/> ٦ ملم	د <input type="radio"/> ٤٠ ملم
٣	أداة طبية تستخدم لفحص العين	أ <input type="radio"/> السماعة الطبية	ب <input type="radio"/> منظار الأذن	ج <input checked="" type="radio"/> منظار العين	د <input type="radio"/> مقياس ضغط العين

ثانياً: أظلل حرف (ص) إذا كانت العبارة صحيحة وحرف (خ) إذا كانت العبارة خاطئة:

م	السؤال	ص	خ
١	الكشف عن مرض عمى الألوان يكون في غرفة مضاءة بضوء الشمس الساطع.	<input type="radio"/>	<input checked="" type="radio"/>
٢	يشير ضغط العين المرتفع إلى الزرق	<input checked="" type="radio"/>	<input type="radio"/>

ثالثاً: أفسر :

ما السبب الرئيسي لاستخدام مخططات فحص النظر؟

لقياس حدة الرؤية

## أوراق عمل

الفصل الدراسي الثاني العام الدراسي ١٤٤٧ هـ

### ورقة عمل الأسبوع الرابع

الثانوية			المرحلة
الثالث	الصف	رعاية صحية	المادة

أولاً: أظلل الإجابة الصحيحة لكل مما يلي:

١	الأداة المستخدمة لشق الجلد والأنسجة أثناء العمليات الجراحية	أ <input checked="" type="radio"/> المشرط	ب <input type="radio"/> الملقاط	ج <input type="radio"/> المرقنات	د <input type="radio"/> المبعديات
٢	أداة تستخدم لربط الستائر الجراحية وثبيتها	أ <input type="radio"/> ملقاط الشظايا	ب <input type="radio"/> المقصات الجراحية	ج <input checked="" type="radio"/> مشابك المناشف	د <input type="radio"/> حاملات الإبر
٣	أحد المواد التالية غير قابلة للامتصاص في الجسم	أ <input type="radio"/> الفيكريل	ب <input checked="" type="radio"/> الحرير	ج <input type="radio"/> البوليغلاكتين	د <input type="radio"/> الخيط المعوي الجراحي (الكاتجوت)

ثانياً: صل من العمود (أ) ما يناسبه من العمود (ب)

م	الأداة (أ)	م	الاستخدام (ب)	أظلل الإجابة المناسبة
1	حاملات الإبر	أ	تستخدم لضغط (أو لقط) الأوعية الدموية لإيقاف النزيف	أ <input type="radio"/> ب <input checked="" type="radio"/> ج <input type="radio"/> د <input type="radio"/> هـ <input type="radio"/> و
2	النيلون والحرير	ب	أدوات مدببة النهايات وبدون أسنان تستخدم لإزالة الأجسام الغريبة	أ <input type="radio"/> ب <input type="radio"/> ج <input type="radio"/> د <input checked="" type="radio"/> هـ <input type="radio"/> و
3	المبعديات	ج	أدوات خاصة تستخدم لتثبيت الإبرة أو دعمها أثناء إدخال الغرز	أ <input type="radio"/> ب <input type="radio"/> ج <input checked="" type="radio"/> د <input type="radio"/> هـ <input type="radio"/> و
4	ملاقط الشظايا	د	تستخدم لسحب جوانب أو شفتي الجرح أو الشق	أ <input type="radio"/> ب <input checked="" type="radio"/> ج <input type="radio"/> د <input type="radio"/> هـ <input type="radio"/> و
5	المرقنات	هـ	مواد الغرز غير القابلة للامتصاص	أ <input checked="" type="radio"/> ب <input type="radio"/> ج <input type="radio"/> د <input type="radio"/> هـ <input type="radio"/> و
		و	مواد الغرز القابلة للامتصاص	أ <input type="radio"/> ب <input type="radio"/> ج <input type="radio"/> د <input type="radio"/> هـ <input type="radio"/> و

## أوراق عمل

الفصل الدراسي الثاني العام الدراسي ١٤٤٧ هـ

### ورقة عمل الأسبوع الخامس

المرحلة		الثانوية	
المادة	رعاية صحية	الصف	الثالث

أولاً: أظلل الإجابة الصحيحة لكل مما يلي

١	توجد العقدة الجيبية الأذينية في أعلى	<input type="radio"/> أ الأذين الأيسر	<input type="radio"/> ب البطين الأيسر	<input checked="" type="radio"/> ج الأذين الأيمن	<input type="radio"/> د البطين الأيمن
٢	حركة النبضة عبر العقدة الأذينية البطينية وحزمة هس وفروعها وألياف بوركنجي تُحدث موجة	<input checked="" type="radio"/> أ P	<input type="radio"/> ب QRS	<input type="radio"/> ج T	<input type="radio"/> د S
٣	معنى ظهور موجة U في تخطيط القلب	<input type="radio"/> أ انقباض الأذنين	<input type="radio"/> ب انقباض البطينين	<input type="radio"/> ج عدم وجود نشاط كهربائي	<input checked="" type="radio"/> د إعادة استقطاب الأنسجة البطينية.

ثانياً: أظلل حرف (ص) إذا كانت العبارة صحيحة وحرف (خ) إذا كانت العبارة خاطئة:

م	السؤال	ص	خ
١	تخطيط كهربية القلب يُستخدم لقياس نشاط القلب الكهربائي فقط	<input type="radio"/>	<input checked="" type="radio"/>
٢	تخطيط كهربية القلب يشمل عادةً ١٢ تخطيطاً كهربائياً مختلفاً	<input checked="" type="radio"/>	<input type="radio"/>

ثالثاً: أحدد الصنفين الرئيسين لأجهزة تخطيط القلب؟

أ- أحادية القناة

ب- متعددة القناة

## أوراق عمل

### الفصل الدراسي الثاني العام الدراسي ١٤٤٧ هـ

#### ورقة عمل الأسبوع السادس

الثانوية			المرحلة
الثالث	الصف	رعاية صحية	المادة

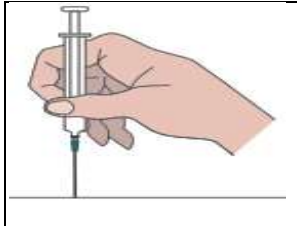
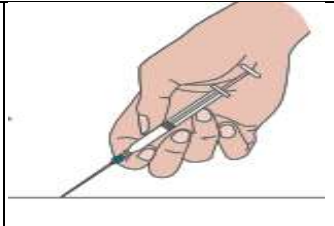
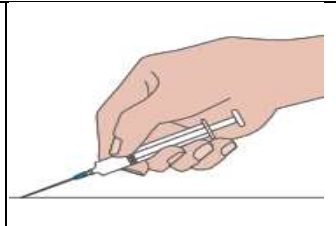
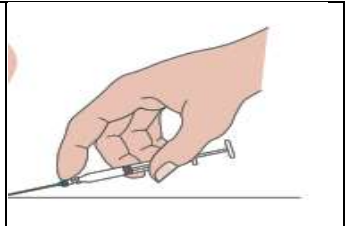
أولاً: أظلل الإجابة الصحيحة لكل مما يلي:

١	عندما يكون الحقن بزاوية ٤٥ درجة يكون حقن	أ <input checked="" type="radio"/> تحت الجلد	ب <input type="radio"/> وريدي	ج <input type="radio"/> عضلي	د <input type="radio"/> ضمن الأدمة
٢	الدواء المذاب في الكحول يسمى	أ <input type="radio"/> المعلق المائي	ب <input type="radio"/> الشراب	ج <input type="radio"/> المعلق	د <input checked="" type="radio"/> الصبغة
٣	غلاف يشبه الجيلاتين بداخله دواء	أ <input type="radio"/> التحاميل	ب <input checked="" type="radio"/> الكبسولة	ج <input type="radio"/> القرص	د <input type="radio"/> الحبة

س٢: أظلل حرف (ص) إذا كانت العبارة صحيحة وحرف (خ) إذا كانت العبارة خاطئة:

م	السؤال	ص	خ
١	يمكن إعطاء الأدوية عن طريق الفم فقط	<input type="radio"/>	<input checked="" type="radio"/>
٢	تمثل الحقن طريقة فعالة لإيصال الأدوية بسرعة إلى مجرى الدم	<input checked="" type="radio"/>	<input type="radio"/>

س٣: حدد مكان الحقن والزاوية من خلال الصور التالية:

			
عضلي ٩٠°	تحت الجلد ٤٥°	وريدي ٢٥°	ضمن الأدمة ١٠-١٥°

## أوراق عمل

الفصل الدراسي الثاني العام الدراسي ١٤٤٧ هـ

ورقة عمل الأسبوع السابع

الثانوية			المرحلة
الثالث	الصف	رعاية صحية	المادة

أولاً: أظلل الإجابة الصحيحة لكل مما يلي:

١	الفائدة الرئيسية من استخدام أنظمة حفظ الملفات الإلكترونية في الرعاية الصحية	أ <input checked="" type="radio"/> تسريع الوصول إلى المعلومات.	ب <input type="radio"/> تقليل التكاليف	ج <input type="radio"/> توفير المساحة التخزينية	د <input type="radio"/> تقليل عدد الموظفين
٢	النوع الأكثر شيوعاً من أنظمة حفظ الملفات المستخدمة في المستشفيات هو النظام	أ <input type="radio"/> الورقي	ب <input type="radio"/> المهجين	ج <input checked="" type="radio"/> الرقمي	د <input type="radio"/> التقليدي
٣	النظام الأكثر كفاءة في تخزين المعلومات هو النظام	أ <input type="radio"/> التقليدي	ب <input type="radio"/> الورقي	ج <input type="radio"/> المرمز بالألوان	د <input checked="" type="radio"/> الإلكتروني

س٢: أظلل حرف (ص) إذا كانت العبارة صحيحة وحرف (خ) إذا كانت العبارة خاطئة:

م	السؤال	ص	خ
١	يعد حفظ السجلات اليدوي هو الأكثر كفاءة	<input type="radio"/>	<input checked="" type="radio"/>
٢	يمكن لجهاز النداء أن يصدر رسالة صوتية أو صافرة لتنبيه الفرد إلى الاتصال	<input checked="" type="radio"/>	<input type="radio"/>

س٣: أعلل السبب

١- يجب توفير مساحة كافية للملفات على رفوف الأرشيف

لعدم حشر الملفات وتلفها على رفوف الأرشيف والخزائن

٢- يجب على موظف الاستقبال فرز المكالمات بعناية

لتقييم الموقف وتحديد أولويات العلاج

## أوراق عمل

الفصل الدراسي الثاني العام الدراسي ١٤٤٧ هـ

### ورقة عمل الأسبوع الثامن

الثانوية			المرحلة
الثالث	الصف	رعاية صحية	المادة

أولاً: أظلل الإجابة الصحيحة لكل مما يلي:

١ النقطة الأساسية التي يجب مراعاتها عند التحدث عبر الهاتف			
أ <input type="radio"/> السرعة في الكلام	ب <input checked="" type="radio"/> نبرة الصوت والوضوح	ج <input type="radio"/> استخدام كلمات معقدة	د <input type="radio"/> استخدام اللغة العامية
٢ يتطلب التعامل مع المكالمات الطبية في معظم الحالات			
أ <input type="radio"/> تجاهل المكالمات	ب <input type="radio"/> طلب المساعدة الفورية	ج <input checked="" type="radio"/> تحديد أولوية الحالة	د <input type="radio"/> السؤال عن الاسم فقط
٣ تسمى أجهزة الاستدعاء لتلقى الرسائل وإرسالها			
أ <input type="radio"/> أحادية الاتجاه	ب <input type="radio"/> ثلاثية الاتجاه	ج <input type="radio"/> معاكس الاتجاه	د <input checked="" type="radio"/> ثنائية الاتجاه

س٢: صل من العمود (أ) ما يناسبه من العمود (ب)

م	العمود (أ)	م	العمود (ب)	أظلل الإجابة المناسبة
١	عملية تقييم الموقف وتحديد أولويات العلاج	أ	السجل النشط	أ <input type="radio"/> ب <input checked="" type="radio"/> ج <input type="radio"/> د <input type="radio"/> هـ <input type="radio"/> و
٢	الترتيب المنهجي أو المنظم للأوراق أو البطاقات أو المواد	ب	السجل المغلق	أ <input type="radio"/> ب <input type="radio"/> ج <input type="radio"/> د <input checked="" type="radio"/> هـ <input type="radio"/> و
٣	سجل لمريض لم يعاين لسنوات عديدة	ج	الفرز	أ <input type="radio"/> ب <input type="radio"/> ج <input checked="" type="radio"/> د <input type="radio"/> هـ <input type="radio"/> و
٤	سجل لمريض توفي أو نُقل إلى طبيب أو منشأة أخرى	د	السجل غير النشط	أ <input type="radio"/> ب <input checked="" type="radio"/> ج <input type="radio"/> د <input type="radio"/> هـ <input type="radio"/> و
٥	سجل قيد الاستخدام حالياً في المستشفى	هـ	حفظ الملفات	أ <input checked="" type="radio"/> ب <input type="radio"/> ج <input type="radio"/> د <input type="radio"/> هـ <input type="radio"/> و
		و	البريد الصوتي	أ <input type="radio"/> ب <input type="radio"/> ج <input type="radio"/> د <input type="radio"/> هـ <input type="radio"/> و



## أوراق عمل

الفصل الدراسي الثاني العام الدراسي ١٤٤٧ هـ

ورقة عمل الأسبوع العاشر

الثانوية			المرحلة
الثالث	الصف	رعاية صحية	المادة

أولاً: أظلل الإجابة الصحيحة لكل مما يلي:

١ خطاب لإعلام المريض بموعد محدد متضمناً اليوم والتاريخ والوقت			
<input checked="" type="radio"/> أ خطاب الموعد	<input type="radio"/> ب خطاب الاستدعاء	<input type="radio"/> ج خطاب الاستفسار	<input type="radio"/> د خطاب الاستشارة
٢ الهدف من كود "CPT"			
<input type="radio"/> أ تصنيف الأدوية	<input type="radio"/> ب تصنيف المستشفيات	<input checked="" type="radio"/> ج تصنيف الإجراءات الطبية.	<input type="radio"/> د تصنيف الأطباء
٣ الترميز الدولي للأمراض يعرف بـ			
<input type="radio"/> أ CPT	<input checked="" type="radio"/> ب ICD	<input type="radio"/> ج ACHI	<input type="radio"/> د HCPCS

س٢: أظلل حرف (ص) إذا كانت العبارة صحيحة وحرف (خ) إذا كانت العبارة خاطئة:

م	السؤال	ص	خ
١	يُحدث سجل الحساب أو بطاقة الحساب المحوسبة تلقائياً عند الإدخال	<input checked="" type="radio"/>	<input type="radio"/>
٢	تتميز أنظمة الفوترة الإلكترونية بالسهولة	<input checked="" type="radio"/>	<input type="radio"/>

س٣: أجب عما يلي :

ما المقصود بـ (ROA)؟

تعني "أضيفت للحساب"

## أوراق عمل

الفصل الدراسي الثاني العام الدراسي ١٤٤٧ هـ

ورقة عمل الأسبوع الحادي عشر

الثانوية			المرحلة
المادة	رعاية صحية	الصف	الثالث

أولاً: أظلل الإجابة الصحيحة لكل مما يلي:

١	يعتمد المرضى في دفع النفقات الطبية والسنية على شركات	أ <input type="radio"/> التصدير	ب <input type="radio"/> التصنيع	ج <input checked="" type="radio"/> التأمين	د <input type="radio"/> التوزيع
٢	الفائدة الرئيسية من استخدام الترميز في استثمارات التأمين	أ <input checked="" type="radio"/> تسهيل التواصل	ب <input type="radio"/> زيادة التكلفة	ج <input type="radio"/> تعقيد العمليات	د <input type="radio"/> زيادة الوقت
٣	في نظام حفظ السجلات المالية بدلاً من العلاج يكتب ..... ويعني أضيفت للحساب، تحت الوصف	أ <input type="radio"/> AOR	ب <input type="radio"/> ORA	ج <input type="radio"/> OAR	د <input checked="" type="radio"/> ROA

س٢: أظلل حرف (ص) إذا كانت العبارة صحيحة وحرف (خ) إذا كانت العبارة خاطئة:

م	السؤال	ص	خ
١	لتعبئة استمارة التأمين ما عليك سوى تضمين معلومات موجزة مختصرة	<input type="radio"/>	<input checked="" type="radio"/>
٢	لا يمكن الإفصاح عن المعلومات الطبية السرية ما لم يوقع المريض على تصريح بالإفصاح عن المعلومات لشركات التأمين	<input checked="" type="radio"/>	<input type="radio"/>

س٣: ما المقصود بـ خطاب الاستدعاء؟

خطاب لتذكير المريض أن تمام وقت المراجعة قد حان من أجل الفحص الدوري

## أوراق عمل

الفصل الدراسي الثاني العام الدراسي ١٤٤٧ هـ

ورقة عمل الأسبوع الثاني عشر

الثانوية			المرحلة
المادة	رعاية صحية	الصف	الثالث

أولاً: أظلل الإجابة الصحيحة لكل مما يلي:

١	أحد التالي يمثل هدفا رئيسيا للمنظمات المهنية	أ <input type="radio"/> التركيز على الترفيه	ب <input type="radio"/> تحقيق الأرباح	ج <input checked="" type="radio"/> تقديم الدعم لأعضاء المجال	د <input type="radio"/> الحفاظ على سرية المعلومات
٢	الفئات المستفيدة من التعلم مدى الحياة	أ <input type="radio"/> الطلاب فقط	ب <input type="radio"/> المتقاعدون فقط	ج <input type="radio"/> المسنين فقط	د <input checked="" type="radio"/> جميع الفئات العمرية
٣	يدعم التعلم مدى الحياة تطوير	أ <input checked="" type="radio"/> منتجات جديدة	ب <input type="radio"/> نظريات علمية	ج <input type="radio"/> إرشادات صحية	د <input type="radio"/> إرشادات علاجية

س٢: أظلل حرف (ص) إذا كانت العبارة صحيحة وحرف (خ) إذا كانت العبارة خاطئة:

م	السؤال	ص	خ
١	تمثل الأهداف جيدة التخطيط خرائط طريق نحو مستقبل زاهر	<input checked="" type="radio"/>	<input type="radio"/>
٢	من الجيد ألا تتواصل مع مرشدك لأنه يضعف حماسك وشغفك للمهنة	<input type="radio"/>	<input checked="" type="radio"/>

س٣: أحدد ثلاثة من غايات المنظمات المهنية؟

أ- الارتقاء بالمهنة

ب- رعاية التعلم المستمر

ج- مواكبة التطورات الحالية في الميدان

## أوراق عمل

الفصل الدراسي الثاني العام الدراسي ١٤٤٧ هـ

ورقة عمل الأسبوع الثالث عشر

المرحلة		الثانوية	
المادة	رعاية صحية	الصف	الثالث

أولاً: أظلل الإجابة الصحيحة لكل مما يلي:

١	يقصد بالتطور المهني	أ <input type="radio"/> الحصول على منصب جديد	ب <input type="radio"/> العمل ضمن فريق واحد	ج <input checked="" type="radio"/> تحسين المهارات والمعرفة المهنية.	د <input type="radio"/> تطوير علاقات اجتماعية
٢	إحدى وسائل التطور المهني	أ <input type="radio"/> الانتقال إلى مجال عمل آخر	ب <input type="radio"/> التوظيف في نفس المنصب	ج <input type="radio"/> تقليل ساعات العمل	د <input checked="" type="radio"/> الاستمرار في التعلم والتدريب
٣	أحد التالي يمثل هدفاً رئيسياً للمنظمات المهنية	أ <input type="radio"/> تحقيق الأرباح	ب <input checked="" type="radio"/> تقديم الدعم لأعضاء المجال.	ج <input type="radio"/> التركيز على الترفيه	د <input type="radio"/> الحفاظ على سرية المعلومات

س ٢: أظلل حرف (ص) إذا كانت العبارة صحيحة وحرف (خ) إذا كانت العبارة خاطئة:

م	السؤال	ص	خ
١	من الجيد ألا تتواصل مع مرشدك لأنه يضعف حماسك وشغفك للمهنة	<input type="radio"/>	<input checked="" type="radio"/>
٢	تمثل الأهداف جيدة التخطيط خرائط طريق نحو مستقبل زاهر	<input checked="" type="radio"/>	<input type="radio"/>

س ٣: أعلل لما يأتي/

يعتبر التعلم المستمر ضرورياً للأداء بفاعلية في مجال الرعاية الصحية؟

لأن جميع مهن الرعاية الصحية تتأثر بالاكتشافات الطبية والتطورات التكنولوجية المتسارعة

## أوراق عمل

الفصل الدراسي الثاني العام الدراسي ١٤٤٧ هـ

ورقة عمل الأسبوع الرابع عشر

المرحلة		الثانوية	
المادة	الرعاية الصحية	الصف	الثالث

أولاً: أظلل الإجابة الصحيحة لكل مما يلي:

١	ما دور المجموعات الصغيرة في التعلم الموجه للذات	أ <input type="radio"/> الحد من التعلم المستقل	ب <input type="radio"/> الاعتماد على المعلمين فقط	ج <input type="radio"/> عدم استخدام النقاش كأداة تعليمية	د <input checked="" type="radio"/> توفير دعم جماعي للموظفين
٢	يمكن العثور على المقالات المتخصصة في المجال الطبي في	أ <input type="radio"/> الصحف العامة	ب <input checked="" type="radio"/> الإنترنت والمجلات العلمية	ج <input type="radio"/> الروايات الأدبية	د <input type="radio"/> المقابلات
٣	يدعم التعلم مدى الحياة تطوير	أ <input checked="" type="radio"/> منتجات جديدة	ب <input type="radio"/> إرشادات صحية	ج <input type="radio"/> نظريات علمية	د <input type="radio"/> إرشادات علاجية

س٢: أظلل حرف (ص) إذا كانت العبارة صحيحة وحرف (خ) إذا كانت العبارة خاطئة:

م	السؤال	ص	خ
١	التعلم من الأشخاص القدوة يعني فقط تقليد أفعالهم دون فهم الأسباب التي تقف وراء تلك الأفعال	<input type="radio"/>	<input checked="" type="radio"/>
٢	المرشد مزيج من المدرب الشخصي والمستشار ويتمتع بصفات القدوة	<input checked="" type="radio"/>	<input type="radio"/>

س٣: أقرن بين كلاً من :

- ١- التطور المهني المستمر: عملية مستمرة لتطوير المهارات المهنية للفرد والحفاظ عليها
- ٢- التعلم الطبي المستمر: تعليم أو تدريب أخصائي الرعاية الصحية لمواكبة آخر التطورات في الميدان الطبي

## أوراق عمل

الفصل الدراسي الثاني العام الدراسي ١٤٤٧ هـ

ورقة عمل الأسبوع الخامس عشر

الثانوية		المرحلة
الثالث	الصف	المادة

أولاً: أظلل الإجابة الصحيحة لكل مما يلي:

١	من خصائص التعلم الموجه للذات	أ <input type="radio"/> إهمال التخطيط	ب <input checked="" type="radio"/> تحديد الأهداف	ج <input type="radio"/> الاعتماد على الآخرين	د <input type="radio"/> تجنب المسؤولية
٢	ما المهارة التي يحتاجها المتعلم لنجاح التعلم	أ <input checked="" type="radio"/> إدارة الوقت	ب <input type="radio"/> الإهمال	ج <input type="radio"/> التردد	د <input type="radio"/> العشوائية
٣	أي مما يلي يضعف التعلم الموجه للذات	أ <input type="radio"/> وضع أهداف واضحة	ب <input type="radio"/> التخطيط الجيد	ج <input type="radio"/> تقييم الذات	د <input checked="" type="radio"/> عدم الالتزام بالخطه

س٢: أظلل حرف (ص) إذا كانت العبارة صحيحة وحرف (خ) إذا كانت العبارة خاطئة:

م	السؤال	ص	خ
١	السلم الوظيفي في مجال الرعاية الصحية يعتمد فقط على عدد سنوات الخبرة بغض النظر عن الكفاءة والأداء	<input type="radio"/>	<input checked="" type="radio"/>
٢	يساعد وجود سلم وظيفي واضح على توفير مسار مهني منظم يمكن للموظفين اتباعه لتحقيق التقدم الوظيفي	<input checked="" type="radio"/>	<input type="radio"/>

س٣: أكتب المصطلح العلمي الدال على العبارات التالية:-

١- المستويات المختلفة ضمن مجال مهني ما والتي تتطلب درجات مختلفة من التعليم والتدريب

السلم الوظيفي

٢- جميع الأنشطة التي يخطط لها الفرد ويشارك فيها لزيادة معرفته ومهاراته

التعلم الموجه للذات