

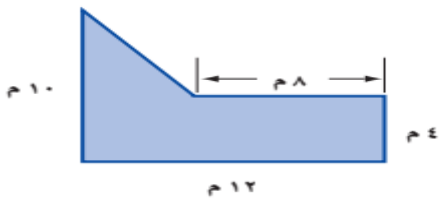
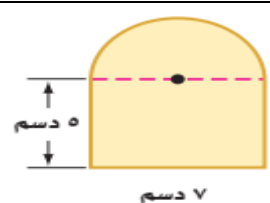
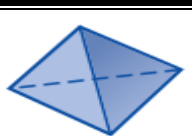
أوراق عمل

الفصل الدراسي الثاني العام الدراسي ١٤٤٧ هـ

ورقة عمل الأسبوع الرابع عشر

المرحلة المتوسطة			المرحلة
الأول	الصف	رياضيات	المادة

أولاً - أختار الإجابة الصحيحة:

 <p>مساحة الشكل المقابل هي</p>							١
أ	ب	ج	د	٢٠ م ^٢	٤٠ م ^٢	٦٠ م ^٢	٥٠ م ^٢
 <p>مساحة الشكل المقابل هي مقرباً الناتج لأقرب عدد صحيح</p>							٢
أ	ب	ج	د	٣٦ دسم ^٢	٤٨ دسم ^٢	٥٤ دسم ^٢	٧٠ دسم ^٢
<p>..... هو شكل مكون من مثلثات وأشكال رباعية وأنصاف دوائر وأشكال أخرى ثنائية الأبعاد</p>							٣
أ	ب	ج	د	المكعب	الدائرة	المربع	المكعب
<p>..... هو شكل له طول وعرض وعمق (أو ارتفاع)</p>							٤
أ	ب	ج	د	المركب	الشكل الثلاثي الأبعاد	المستطيل	المعين
<p>قطع مستقيمة تتشكل من تقاطع الوجوه</p>							٥
أ	ب	ج	د	الرؤوس	الأوجه	الأحرف	المركز
 <p>صنف الشكل المقابل</p>							٦
أ	ب	ج	د	اسطوانة	مكعب	مخروط	هرم ثلاثي

ثانياً - أجب عن مما يلي:

١. حدد شكل قاعدة الشكل المقابل ثم صنفه:

.....

.....

.....

٢. احسب مساحة الشكل المقابل:

.....

.....

.....

