

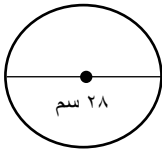
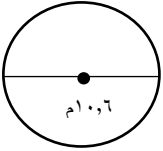
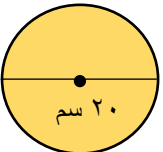
أوراق عمل

الفصل الدراسي الثاني العام الدراسي ١٤٤٧ هـ

ورقة عمل الأسبوع الثالث عشر

| المرحلة المتوسطة |      |         | المرحلة |
|------------------|------|---------|---------|
| الأول            | الصف | رياضيات | المادة  |

أولاً - أختار الإجابة الصحيحة:

|   |   |   |   |   |       |       |       |
|---|---|---|---|---|-------|-------|-------|
| ١ | دائرة طول قطرها ٧ سم فإن محيطها =   |   |   |   |       |       |       |
|   | أ   | ب | ج | د | ٢٠ سم | ٢٢ سم | ١٥ سم |
| ٢ | دائرة محيطها ٤٤ سم فإن قطرها =  |   |   |   |       |       |       |
|   | أ   | ب | ج | د | ٧ سم  | ١٤ سم | ٥ سم  |
| ٣ | إذا كانت مساحة دائرة تساوي ٢٥ ط سم <sup>٢</sup> فإن نصف قطرها يساوي.....            |   |   |   |       |       |       |
|   | أ   | ب | ج | د | ٥ سم  | ٢٥ سم | ١٠ سم |
| ٤ | محيط الدائرة = ..... تقريبا   |   |   |   |       |       |       |
|   |   |   |   |   |       |       |       |
| ٥ | نصف قطر الدائرة =   |   |   |   |       |       |       |
|   |  |   |   |   |       |       |       |
| ٦ | مساحة الدائرة =   |   |   |   |       |       |       |
|   |  |   |   |   |       |       |       |

ثانياً - أجب عن مما يلي:

١- أحسب محيط الدائرة:-

.....  
.....  
.....

٢- مساحة الدائرة:-

.....  
.....  
.....

