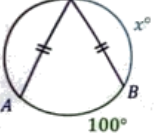
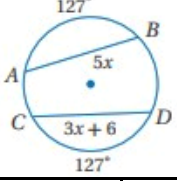



ورقة عمل الأسبوع الثالث عشر

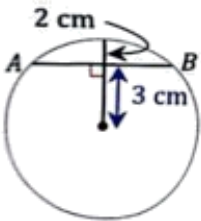
المرحلة الثانية			المرحلة
الأول	الصف	رياضيات	المادة

أولاً - أختار الإجابة الصحيحة:

								1
في الشكل المقابل $m\widehat{AB} = 100^\circ$. أوجد قيمة x								
أ	ب	ج	د	٥٠°	١٠٠°	١٣٠°	١٤٠°	
								2
في الشكل المقابل. أوجد قيمة x								
أ	ب	ج	د	2	3	4	5	
الزاوية المحيطية المقابلة لنصف دائرة قياسها								3
أ	ب	ج	د	90°	180°	270°	360°	
قياس الزاوية المحيطية تساوي القوس المقابل لها .								4
أ	ب	ج	د	نصف قياس	ربع قياس	قياس	ضعف قياس	
الزاويتان المحيطيتان المشتركتان في نفس القوس تكونان دائماً.								5
أ	ب	ج	د	متكاملتان	متتامتان	متطابقتان	غير ذلك	
								6
في الشكل المقابل. أوجد قيمة x								
أ	ب	ج	د	20	30	40	50	

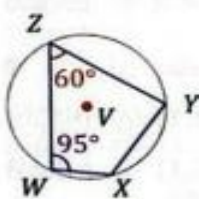
ثانياً - أجب عما يلي:

(أ) أوجد طول \overline{AB} في الدائرة المقابلة؟



.....
.....

(ب) أوجد $m\angle x$ في الدائرة المقابلة؟



.....
.....