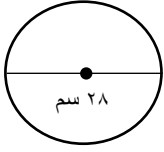
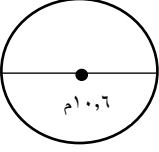
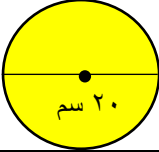


ورقة عمل الأسبوع الثالث عشر

المرحلة المتوسطة			المرحلة
الأول	الصف	رياضيات	المادة

أولاً - أختار الإجابة الصحيحة:

١	دائرة طول قطرها ٧ سم فإن محيطها =	أ ١٥ سم	ب ١٨ سم	ج ٢٠ سم	د ٢٢ سم
٢	دائرة محيطها ٤٤ سم فإن قطرها =	أ ٥ سم	ب ٦ سم	ج ٧ سم	د ١٤ سم
٣	إذا كانت مساحة دائرة تساوي ٢٥ ط سم ^٢ فإن نصف قطرها يساوي.....	أ ١٠ سم	ب ١٥ سم	ج ٥ سم	د ٢٥ سم
٤	محيط الدائرة = تقريبا				
		أ ٤٤ سم	ب ٦٦ سم	ج ٨٨ سم	د ٩٩ سم
٥	نصف قطر الدائرة =				
		أ ٥,٣ م	ب ٤,٢ م	ج ٨,٣ م	د ١٠ م
٦	مساحة الدائرة =				
		أ ٣,١٤ سم ^٢	ب ٣١٤ سم ^٢	ج ١٣/٧ سم ^٢	د ١٥ سم ^٢

ثانياً - أجب عن مما يلي:

١- أحسب محيط الدائرة:-

.....المحيط = ط ق

.....المحيط = $٢٢ \times \frac{٢٢}{٧}$

.....المحيط = ٦٦ م

٢- مساحة الدائرة:-

.....م = ط نق^٢

.....م = $٢٧ \times \frac{٢٢}{٧}$

.....م = ١٥٤ م^٢

