

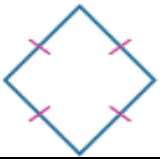


أوراق عمل
الفصل الدراسي الثاني العام الدراسي
١٤٤٧ هـ

ورقة عمل الأسبوع العاشر

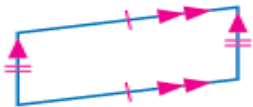
المرحلة المتوسطة			المرحلة
الأول	الصف	رياضيات	المادة

أولاً – أختار الإجابة الصحيحة:

صنف الشكل المقابل بأفضل اسم يصفه							١
	أ	ب	ج	د	هـ	ز	
مستطيل	مربع	شبه منحرف	متوازي أضلاع	مستطيل	مربع	مستطيل	
يتكون رقم لوحة سيارة علي من الأرقام الأربعة التالية : ٥ ، ٨ ، ٣ ، ٢ فإذا كان رقم اللوحة فردياً ويقبل القسمة على ٣ والرقمان اللذان في المنتصف يكونان مربعاً كاملاً ، فما رقم لوحة سيارته ؟							٢
أ	ب	ج	د	هـ	ز	ح	
٣٥٨٢	٨٢٥٣	٨٥٣٢	٢٣٥٨	٥٣٨٢	٢٣٥٨	٢٣٥٨	
مجموع قياسات زوايا الشكل الرباعي =							٣
أ	ب	ج	د	هـ	ز	ح	
١٢٠°	٩٠°	١٢٠°	١٨٠°	١٢٠°	٩٠°	١٨٠°	
أوجد قيمة س في الشكل الرباعي المجاور							٤
	أ	ب	ج	د	هـ	ز	
١٢٠°	١٠٠°	٧٠°	٩٠°	١٢٠°	٩٠°	١٢٠°	
صنف الشكل المقابل بأفضل اسم يصفه							٥
	أ	ب	ج	د	هـ	ز	
مستطيل	مربع	متوازي أضلاع	شبه منحرف	مربع	مستطيل	مربع	
..... هو متوازي أضلاع جميع زواياه قائمة وجميع أضلاعه متطابقة							٦
أ	ب	ج	د	هـ	ز	ح	
المعين	المتوازي أضلاع	شبه منحرف	المربع	المعين	المتوازي أضلاع	المربع	

ثانياً – أجب عن مما يلي:

• صنف الشكل المقابل بأفضل اسم يصفه



• أوجد قيمة س في الشكل الرباعي المجاور

