






أوراق عمل
الفصل الدراسي الثاني العام الدراسي
١٤٤٧هـ

ورقة عمل الأسبوع الثاني عشر

المرحلة الابتدائية			المرحلة
الثالث	الصف	رياضيات	المادة

أولاً - أختَر الإجابة الصحيحة:

١	كم عدد محاور التماثل للشكل المقابل؟							
	أ	١	ب	٢	ج	٣	د	
٢	عدد محاور التماثل للشكل المقابل هو							
	أ	١	ب	٢	ج	٣	د	
٣	عدد محاور التماثل للدائرة هو							
	أ	١	ب	٢	ج	٣	د	
٤	للمربع محاور تماثل							
	أ	١	ب	٢	ج	٣	د	
٥	الأسطوانة لها وجهان على شكل							
	أ	مربع	ب	مستطيل	ج	دائرة	د	

ثانياً : أجب عن كلاً مما يأتي :

(١) أقام فهد حفلاً بمناسبة تخرجه فدعا ٣ من زملائه في الدراسة و ٥ من أصدقائه ، و ٩ من جيرانه فاعتذر ٧ منهم عن الحضور . فكم عدد الأشخاص الذين حضروا الحفل؟

.....

(٢) مجسم جميع أوجهه مربعة الشكل فما هو

(٣) شكل مستو له ٦ أضلاع و ٦ زوايا فما هو