



شركة مدارس العناية الأهلية
م ١٤٠٧ هـ ١٩٨٦ م
بناء جيل يؤمن بقدراته

شركة مدارس العناية الأهلية


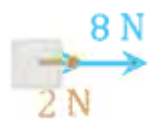


أوراق عمل

الفصل الدراسي الثاني العام الدراسي ١٤٤٧ هـ

ورقة عمل رقم ١٢

الثانوية			المرحلة
الأول	الصف	فيزياء (١-٢)	المادة

س١: أظلل الإجابة الصحيحة لكل مما يلي:

١	القوة التي تجعل الجسم متزنًا هي	<input type="radio"/> القوة الموازنة	<input type="radio"/> القوة المحصلة	<input type="radio"/> قوة الاحتكاك	<input type="radio"/> قوة الشد
٢	إذا كانت القوة المحصلة إتجاهها شمالًا فإن إتجاه القوة الموازنة يكون	<input type="radio"/> شمالًا	<input type="radio"/> شرقًا	<input type="radio"/> جنوبًا	<input type="radio"/> غربًا
٣	أي الحالات يتحرك الجسم شرقًا بقوة 10 N	<input type="radio"/>	<input type="radio"/>	<input type="radio"/>	<input type="radio"/>
					

س٢: أختار المزوجة الصحيحة بين الرقم والحرف

م	التعريف	م	المصطلح	أظلل الاجابة المناسبة
١	القوة التي يؤثر بها المائع لأعلى	أ	الشد	أ () ب () ج () د () هـ () و ()
٢	القوة التي يؤثر بها الحبل أو الخيط	ب	الاحتكاك	أ () ب () ج () د () هـ () و ()
٣	قوة تلامس عمودية يؤثر بها السطح على الجسم	ج	الموازنة	أ () ب () ج () د () هـ () و ()
٤	قوة موازية اتجاهها عكس اتجاه الحركة	د	العمودية	أ () ب () ج () د () هـ () و ()
٥	قوة اتجاهها عكس اتجاه القوة المحصلة	هـ	المعيقة	أ () ب () ج () د () هـ () و ()
		و	الوزن	أ () ب () ج () د () هـ () و ()