


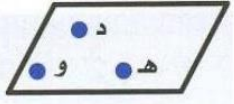

أوراق عمل

الفصل الدراسي الثاني العام الدراسي ١٤١٧ هـ

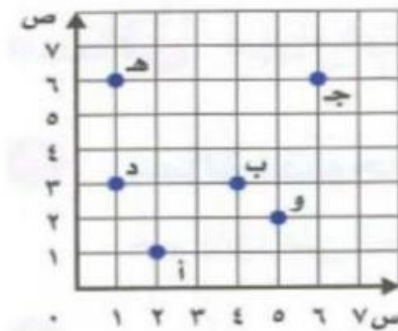
ورقة عمل الأسبوع الحادي عشر

المرحلة	المرحلة الابتدائية
المادة	رياضيات
	الصف
	الخامس

أولاً - أختار الإجابة الصحيحة:

١	يسمى الشكل المجاور:	
أ	مستقيم	ب
ب	قطعة مستقيمة	ج
ج	نصف مستقيم	د
د	مستوى	
2	يسمى الشكل المجاور:	
أ	مستقيم	ب
ب	قطعة مستقيمة	ج
ج	نصف مستقيم	د
د	مستوى	
3	الشكل الذي كل ضلعين فيه متقابلين ومتوازيين وجميع زواياه قائمة هو :	
أ	مستطيل	ب
ب	متوازي أضلاع	ج
ج	معين	د
د	شبه منحرف	
4	الشكل الذي كل ضلعين فيه متقابلين ومتوازيان وجميع أضلاعه متطابقة هو :	
أ	معين	ب
ب	مثلث	ج
ج	مستطيل	د
د	شبه منحرف	
5	عدد الزوايا الحادة في الشكل المجاور هو :	
أ	١	ب
ب	٤	ج
ج	٢	د
د	صفر	
6	النقطة (٣، ٠) تقع على المحور :	
أ	السيني	ب
ب	الصادي	ج
ج	نقطة الأصل	د
د	غير ذلك	

ثانياً : أجب عن ما يلي :



١- سم الزوج المرتب لكل نقطة مما يأتي :

أ (١، ٢) ج (٦، ٦)

٢- سم النقطة التي يمثلها الزوج المرتب :

أ (٦، ١) ب (٣، ٤) هـ