


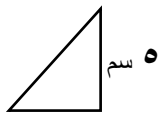
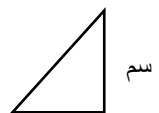
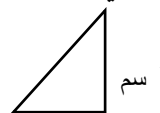
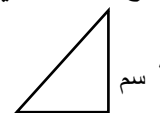



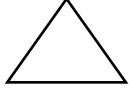
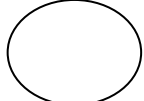







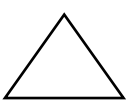
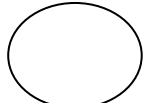




## أوراق عمل

الفصل الدراسي الثاني العام الدراسي ١٤٤٧

ورقة عمل الأسبوع الحادي عشر

المرحلة الابتدائية			المرحلة
الثالث	الصف	رياضيات	المادة

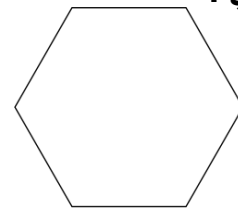
أولاً : أختَر الإجابة الصحيحة

أي من الأشكال التالية يصنف على أنه ( مضلع ):							١	
الخط المنحني	د	الكرة	ج	المثلث		الدائرة	١	
ما ارتفاع المثلث في النمط التالي:							٢	
.....		٥ سم		٨ سم		١٢ سم		١٧ سم
١ سم	د	٣ سم		٢ سم	ب	٤ سم	١	
أي مما يأتي ليس شكلاً مغلقاً ؟							٣	
			ج		ب		١	
أكمل النمط بالشكل المناسب ؟							٤	
.....							١	
	د				ب		١	
إذا كان النمط : أصفر، أحمر ، أخضر ، أصفر ، أحمر ، أخضر ، ..... فما هو اللون التالي في النمط :							٥	
أزرق	د	أخضر	ج	أحمر	ب	أصفر		

ثانياً : أكمل ما يأتي :



ب-



أ-

اسم الشكل .. مستطيل .....

عدد الأضلاع ..... ٤ أضلاع .....

عدد الزوايا ..... ٤ زوايا .....

اسم الشكل ... سادسي .....

عدد الأضلاع ... ٦ أضلاع .....

عدد الزوايا ..... ٦ زوايا .....