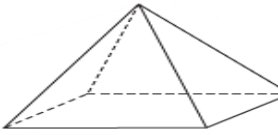
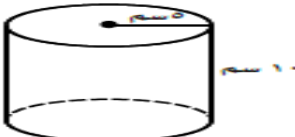
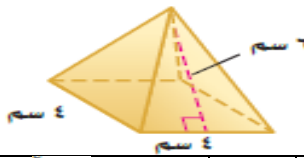

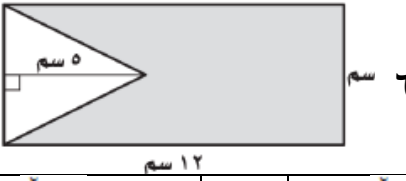


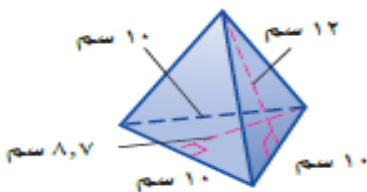
أوراق عمل  
الفصل الدراسي الثاني العام الدراسي  
١٤٤٧ هـ

ورقة عمل الأسبوع العاشر

المرحلة المتوسطة			المرحلة
الثاني	الصف	رياضيات	المادة

أولاً - أختار الإجابة الصحيحة:

١	ما عدد أوجه الجسم في الشكل المقابل؟			
أ	ب	ج	د	٥
٢	ما حجم الأسطوانة في الشكل المجاور مقرباً الناتج لأقرب عدد صحيح			
أ	ب	ج	د	٣١٤ سم <sup>٣</sup>
٣	أوجد المساحة الجانبية لسطح الهرم المنتظم في الشكل المجاور			
أ	ب	ج	د	٣٠ سم <sup>٢</sup>
٤	أوجد عدد رؤوس الشكل المقابل؟			
أ	ب	ج	د	٧
٥	ما مساحة المنطقة المظللة في الشكل المجاور؟			
أ	ب	ج	د	٣٥ سم <sup>٢</sup>
٦	ما حجم المخروط القائم الذي قطر قاعدته ٨ بوصات وارتفاعه ١٢ بوصة مقرباً الناتج لأقرب جزء من عشرة			
أ	ب	ج	د	٤٨١ بوصة مكعبة



ثانياً - أجب عن مما يلي:

أوجد المساحة الجانبية لسطح الهرم الثلاثي في الشكل المجاور

محيط القاعدة =  $10 + 10 + 10 = 30$  سم

ج =  $\frac{1}{2} \times 12 \times 30 = 180$  سم<sup>٢</sup>