
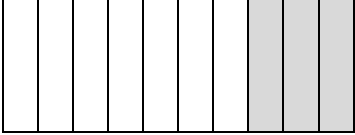



أوراق عمل
الفصل الدراسي الثاني العام الدراسي ١٤٤٧ هـ

ورقة عمل الأسبوع الثاني عشر

المرحلة الابتدائية			المرحلة
الرابع	الصف	رياضيات	المادة

أولاً - أختَر الإجابة الصحيحة:

١	ما الكسر الذي يمثل الجزء المظلل						
		أ	ب	ج	د	٠,٨	٠,٧
٢	الكسر العشري ٠,٤ على صورة كسر اعتيادي هو						
	أ	ب	ج	د	$\frac{4}{10}$	$\frac{8}{10}$	$\frac{6}{10}$
٣	أكلت وفاء ستة أعشار رغيف الخبز الكسر الذي يمثل ما أكلته وفاء هو						
	أ	ب	ج	د	٠,٣	٠,٦	٠,٩
٤	الكسر العشري الذي يمثل الشكل المقابل						
		أ	ب	ج	د	٠,٣	٠,١
٥	ظلت فاطمة $\frac{7}{10}$ من الشكل ما الكسر العشري الدال على ذلك						
	أ	ب	ج	د	٠,٧	٠,٩	٠,٥
٦	ما الكسر الذي يمثل الجزء المظلل						
		أ	ب	ج	د	٠,٧	٠,٩

ثانياً : أجب عن كلاً مما يأتي :

(١) اكتب الكسر الاعتيادي على صورة كسر عشري

$$٠,٩ = \frac{9}{10}$$

$$٠,٧ = \frac{7}{10}$$

(٢) اكتب الكسر العشري على صورة كسر اعتيادي

$$\frac{6}{10} = ٠,٦ \quad (٢)$$

$$\frac{5}{10} = ٠,٥ \quad (١)$$