


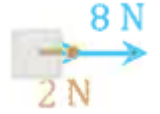


أوراق عمل

الفصل الدراسي الثاني العام الدراسي 1447هـ

ورقة عمل رقم ١٢

الثانوية		المرحلة
الأول	الصف	فيزياء (٢-١)
		المادة

س١: أظلل الإجابة الصحيحة لكل مما يلي:

١	القوة التي تجعل الجسم متزنًا هي	<input type="radio"/> القوة المحصلة	<input type="radio"/> قوة الاحتكاك	<input type="radio"/> قوة الشد	<input checked="" type="radio"/> القوة الموازنة
٢	إذا كانت القوة المحصلة إتجاهها شمالًا فإن إتجاه القوة الموازنة يكون	<input type="radio"/> شمالًا	<input type="radio"/> شرقًا	<input checked="" type="radio"/> جنوبًا	<input type="radio"/> غربًا
٣	أي الحالات يتحرك الجسم شرقًا بقوة 10 N	<input type="radio"/>	<input checked="" type="radio"/>	<input type="radio"/>	<input type="radio"/>
					

س٢: أختار المزوجة الصحيحة بين الرقم والحرف

م	التعريف	م	المصطلح	أظلل الاجابة المناسبة
١	القوة التي يؤثر بها المائع لأعلى	أ	الشد	<input type="radio"/> أ <input type="radio"/> ب <input type="radio"/> ج <input type="radio"/> د <input checked="" type="radio"/> هـ <input type="radio"/> و
٢	القوة التي يؤثر بها الحبل أو الخيط	ب	الاحتكاك	<input type="radio"/> أ <input type="radio"/> ب <input type="radio"/> ج <input type="radio"/> د <input type="radio"/> هـ <input checked="" type="radio"/> و
٣	قوة تلامس عمودية يؤثر بها السطح على الجسم	ج	الموازنة	<input type="radio"/> أ <input type="radio"/> ب <input type="radio"/> ج <input checked="" type="radio"/> د <input type="radio"/> هـ <input type="radio"/> و
٤	قوة موازية إتجاهها عكس إتجاه الحركة	د	العمودية	<input type="radio"/> أ <input checked="" type="radio"/> ب <input type="radio"/> ج <input type="radio"/> د <input type="radio"/> هـ <input type="radio"/> و
٥	قوة إتجاهها عكس إتجاه القوة المحصلة	هـ	المعيقة	<input type="radio"/> أ <input type="radio"/> ب <input checked="" type="radio"/> ج <input type="radio"/> د <input type="radio"/> هـ <input type="radio"/> و
		و	الوزن	<input type="radio"/> أ <input type="radio"/> ب <input type="radio"/> ج <input type="radio"/> د <input type="radio"/> هـ <input type="radio"/> و