
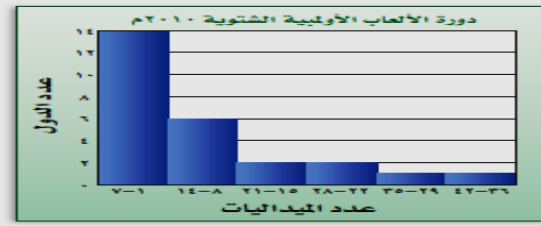
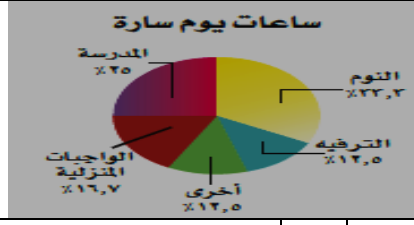


أوراق عمل
الفصل الدراسي الثاني العام الدراسي ١٤٤٧ هـ

ورقة عمل الأسبوع الثاني

المرحلة المتوسطة			المرحلة
الثاني	الصف	رياضيات	المادة

أولاً - أختار الإجابة الصحيحة:

١	تستعمل لمقارنة أجزاء من البيانات بمجموعة البيانات كلها	أ	المدرج التكراري	ب	القطاعات الدائرية	ج	الصندوق و طرفاه	د	الساق والورقة								
٢	مجموع النسب في القطاعات الدائرية =	أ	%١٠٠	ب	%٩٠	ج	%٤٠	د	%٥٠								
٣	أوجد النسبة المئوية ل كرة اليد؟																
		أ	%٤٠	ب	%٣٠	ج	%١٠	د	%٥٠								
٤	من التمثيل البياني : أوجد العدد الكلي للدول ؟																
		أ	١٤	ب	١٠	ج	٢٦	د	التمثيل بالنقاط								
٥	قياس زاوية القطاع الدائري الذي يمثل طلاب الصف الثاني متوسط =	<table border="1"> <tr> <th colspan="2">أعداد الطلاب</th> </tr> <tr> <td>٦٦</td> <td>الصف السادس</td> </tr> <tr> <td>٦٤</td> <td>الصف الأول المتوسط</td> </tr> <tr> <td>٧٠</td> <td>الصف الثاني المتوسط</td> </tr> </table>								أعداد الطلاب		٦٦	الصف السادس	٦٤	الصف الأول المتوسط	٧٠	الصف الثاني المتوسط
أعداد الطلاب																	
٦٦	الصف السادس																
٦٤	الصف الأول المتوسط																
٧٠	الصف الثاني المتوسط																
		أ	١١٥	ب	١٢٠	ج	١١٩	د	١٢٦								
٦	أوجد عدد الساعات التي تقضيها سارة في المدرسة ؟																
		أ	٣ ساعات	ب	٥ ساعات	ج	٦ ساعات	د	٩ ساعات								

ثانياً - أجب عن مما يلي: من الشكل المجاور أوجد مايلي :

(١) النسبة المئوية للقطاع أ ؟

(٢) النسبة المئوية للقطاع ب ؟