

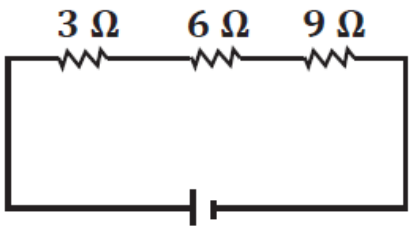
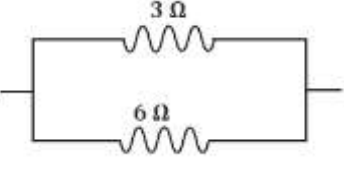
أوراق عمل

الفصل الدراسي الثاني العام الدراسي 1447هـ

ورقة عمل الأسبوع الثالث

الثانوية		المرحلة
الثالث	الصف	المادة
		فيزياء (2-3)

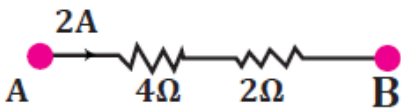
س1 :- أختار الإجابة الصحيحة مما يلي

1	قيمة المقاومة المكافئة للدائرة المقابلة تساوي	
	<input type="radio"/> 1.63 <input type="radio"/> 3 <input type="radio"/> 9 <input type="radio"/> 18	
2	قيمة المقاومة المكافئة للدائرة المقابلة تساوي	
	<input type="radio"/> 5 <input type="radio"/> 2 <input type="radio"/> 9 <input type="radio"/> 18	
3	جهاز يستخدم لقياس شدة التيار الكهربى	
	<input type="radio"/> الجلفانومتر <input type="radio"/> الدايودات <input type="radio"/> الفولتميتر <input type="radio"/> الأميتر	

س2: أظلل حرف (ص) إذا كانت العبارة صحيحة وحرف (خ) إذا كانت العبارة خاطئة:

م	السؤال	ص	خ
1	الدائرة المركبة تحتوي على نوعي التوصيل التوالي والتوازي معاً	<input type="radio"/>	<input type="radio"/>
2	من التطبيقات المهمة على دوائر التوازي دائرة تسمى مجزئ الجهد .	<input type="radio"/>	<input type="radio"/>

س3: أجب على مايلي :



في الشكل تكون قيمة فرق الجهد بين طرفي (A,B) بوحدة الفولت تساوي .