
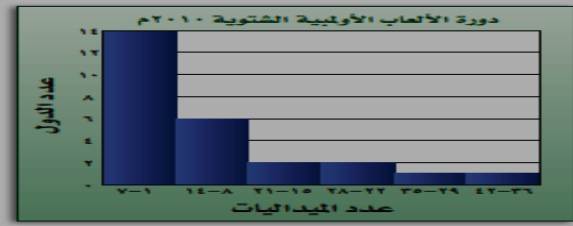
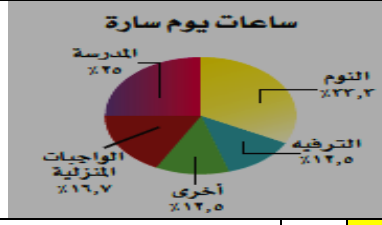


أوراق عمل  
الفصل الدراسي الثاني العام الدراسي ١٤٤٧ هـ

ورقة عمل الأسبوع الثاني

المرحلة المتوسطة			المرحلة
الثاني	الصف	رياضيات	المادة

أولاً - أختار الإجابة الصحيحة:

١	تستعمل ..... لمقارنة أجزاء من البيانات بمجموعة البيانات كلها	أ	المدرج التكراري	ب	القطاعات الدائرية	ج	الصندوق و طرفاه	د	الساق والورقة								
٢	مجموع النسب في القطاعات الدائرية = .....	أ	%١٠٠	ب	%٩٠	ج	%٤٠	د	%٥٠								
٣	أوجد النسبة المئوية ل كرة اليد؟																
		أ	%٤٠	ب	%٣٠	ج	%١٠	د	%٥٠								
٤	من التمثيل البياني : أوجد العدد الكلي للدول ؟																
		أ	١٤	ب	١٠	ج	٢٦	د	التمثيل بالنقاط								
٥	قياس زاوية القطاع الدائري الذي يمثل طلاب الصف الثاني متوسط = .....	<table border="1"> <tr> <th colspan="2">أعداد الطلاب</th> </tr> <tr> <td>الصف السادس</td> <td>٦٦</td> </tr> <tr> <td>الصف الأول المتوسط</td> <td>٦٤</td> </tr> <tr> <td>الصف الثاني المتوسط</td> <td>٧٠</td> </tr> </table>								أعداد الطلاب		الصف السادس	٦٦	الصف الأول المتوسط	٦٤	الصف الثاني المتوسط	٧٠
أعداد الطلاب																	
الصف السادس	٦٦																
الصف الأول المتوسط	٦٤																
الصف الثاني المتوسط	٧٠																
		أ	١١٥	ب	١٢٠	ج	١١٩	د	١٢٦								
٦	أوجد عدد الساعات التي تقضيها سارة في المدرسة ؟																
		أ	٣ ساعات	ب	٥ ساعات	ج	٦ ساعات	د	٩ ساعات								

ثانياً - أجب عن مما يلي: من الشكل المجاور أوجد مايلي :

(١) النسبة المئوية للقطاع أ؟ .....% ٥٠ .....

(٢) النسبة المئوية للقطاع ب؟ .....% ٢٥ .....

